


تم تحميل ورفع المادة على منصة

الأمجاد القطري



للعودة الى الموقع اكتب في بحث جوجل



الأمجاد القطري



QATAR.AL-AMGAAD.COM

نسخة غير مجابة

العام الأكاديمي 2025/2024

منتصف الفصل الدراسي الأول



أوراق العمل الإثرائية

مادة الدراسات الاجتماعية

الصف السادس الابتدائي

	اسم الطالب
	الصف والشعبه

السؤال الأول :- اختر الإجابة الصحيحة بوضع علامة [X] في المربع المقابل لها.

1- تقع دول الوطن العربي في قارتي آسيا و:

☐ أ- أمريكا الشمالية ☐ ب- أوروبا ☐ ج- إفريقيا ☐ د- أستراليا

2- تبلغ مساحة الوطن العربي:

☐ 11.3 مليون كم2 ☐ 12.3 مليون كم2 ☐ 13.3 مليون كم2 ☐ 14.3 مليون كم2

3 - المسطح المائي الذي يصل مضيق هرمز بالخليج العربي هو.

☐ أ- بحر عمان ☐ ب- بحر العرب ☐ ج- البحر الأحمر ☐ د- البحر المتوسط
السؤال الثاني :- وضح الأهمية الاستراتيجية للموقع الجغرافي للوطن العربي.

1-.....

2-.....

3-.....

السؤال الثالث :- اذكر أسباب اتجاه دول الوطن العربي لتحلية مياه البحر.

1-.....

2-.....

3-.....

السؤال الرابع :- عدد أهم الأنهار في الوطن العربي.

1-.....

2-.....

3-.....

السؤال الأول :- اختر الإجابة الصحيحة بوضع علامة [X] في المربع المقابل لها.

1- يحد الوطن العربي من جهة الشمال جبال:

☐ أ- زاجروس ☐ ب- طوروس ☐ ج- أطلس ☐ د- كردستان

2- أي من الهضاب التالية تقع في وسط شبه الجزيرة العربية:

☐ أ- نجد ☐ ب- حضرموت ☐ ج- الشطوط ☐ د- بادية الشام

3- تمتد جبال الحجاز وعسير على طول ساحل:

☐ خليج عمان ☐ الخليج العربي ☐ البحر الأحمر ☐ البحر المتوسط
السؤال الثاني:- قارن بين السهول الفيضية والسهول الساحلية في الوطن العربي.

وجه المقارنة	السهول الفيضية	السهول الساحلية
المفهوم
مثال

السؤال الخامس :- أ- أعط أمثلة على الهضاب في الوطن العربي في الجناح الآسيوي :

1-.....

2-.....

3-.....

ب- أعط أمثلة على الهضاب في الوطن العربي في الجناح الأفريقي :

1-.....

2-.....

3-.....

السؤال الأول :- اختر الإجابة الصحيحة بوضع علامة [X] في المربع المقابل لها.

1- ترتفع درجة الحرارة صيفاً في وسط وشمال الوطن العربي لتعتمد الشمس على :

☐ أ- مدار الجدي ☐ ب- مدار السرطان ☐ ج- خط الاستواء ☐ د- خط غرينتش

2- تسقط الأمطار الشتوية على بلاد المغرب العربي بسبب هبوب الرياح:

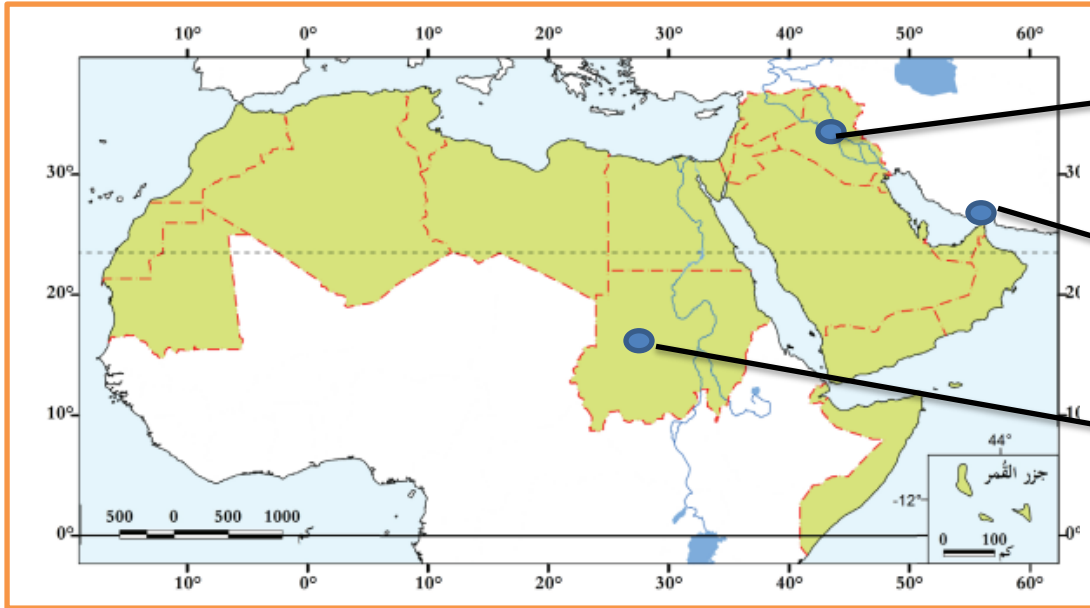
☐ أ- الموسمية الممطرة ☐ ب- التجارية الجافة ☐ ج- العكسية الغربية ☐ د- القطبية الشمالية

3- من أهم أنهار الوطن العربي والذي يجري في مصر والسودان نهر :

☐ شبيلي ☐ النيل ☐ أم الربيع ☐ جوبا

السؤال الثاني :- أمامك خريطة صماء لدول الوطن العربي اكتب عليها الظواهر الطبيعية المشار إليها

بالأسهم



1- نهر

2- مضيق

3- جمهورية

السؤال الثالث :- عدد موارد المياه في الوطن العربي.

1-

2-

3-

السؤال الأول :- اختر الإجابة الصحيحة بوضع علامة [X] في المربع المقابل لها.

1- أصغر دول الوطن العربي من حيث المساحة :

☐ أ- البحرين ☐ ب- جزر القمر ☐ ج- لبنان ☐ د- جيبوتي

2- أكبر دول الوطن العربي من حيث المساحة:

☐ أ- اليمن ☐ ب- مصر ☐ ج- الجزائر ☐ د- موريتانيا

السؤال الثاني :- أ- أعط أمثلة على الجبال في الوطن العربي في الجناح الآسيوي:.

1-.....

2-.....

3-.....

ب- أعط أمثلة على الجبال في الوطن العربي في الجناح الإفريقي:.

1-.....

2-.....

3-.....

السؤال الثالث:- اذكر أبرز المظاهر الحضارية في فيلكا.

1-.....

2-.....

3-.....

السؤال الرابع:- ما الموارد الطبيعية التي أسهمت في ازدهار حضارات الخليج العربي قديماً.

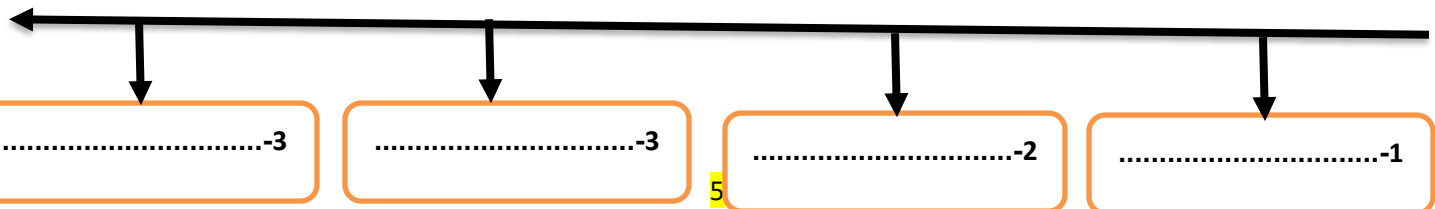
1-.....

2-.....

3-.....

السؤال الخامس :- رتب حضارات الخليج العربي حسب ظهورها من الأقدم الى الأحدث..؟

(حضارة أم النار - حضارة فيلكا - حضارة قطر - حضارة مجان)



السؤال الأول :- اختر الإجابة الصحيحة بوضع علامة [X] في المربع المقابل لها.

1- قامت حضارة مجان في المنطقة التي تشغل حالياً دولة.

☐ أ- السعودية ☐ ب- سلطنة عمان ☐ ج- الكويت ☐ د- الامارات العربية

2- أقدم حضارات منطقة الخليج العربي هي حضارة.

☐ أ- دلمون ☐ ب- مجان ☐ ج- قطر ☐ د- أم النار

3- يقع على الساحل الشرقي لدولة قطر الموقع الأثري المعروف بـ:

☐ أ- مروب ☐ ب- لوسيل ☐ ج- عسيلة ☐ د- رأس بروق

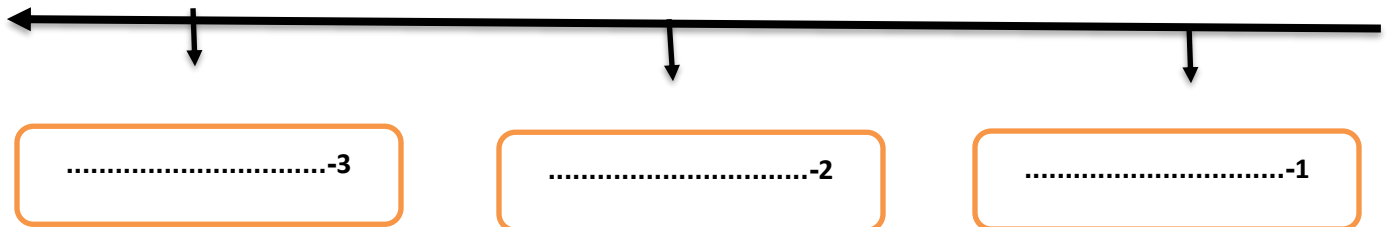
السؤال الثاني :- أكمل الجدول التالي :

المواقع الأثرية الحديثة في دولة قطر	المواقع الأثرية القديمة في دولة قطر
1-.....	1-.....
2-.....	2-.....
3-.....	3-.....

السؤال الثالث: رتب العصور الحضارية القديمة التي مرت بها قطر من الأقدم الى الأحدث باستخدام الخط

الزمني التالي ؟

(عصر الكاشيين – العصر العبيدي – العصر البرونزي)



السؤال الأول :- اختر الإجابة الصحيحة بوضع علامة [X] في المربع المقابل لها.

1- يقع بالقرب من أم باب الموقع الأثري :

- ☐ أ- عسيلة ☐ ب- رأس بروق ☐ ج- برجا برزان ☐ د- مدافن تلال الخور

2- أطلق السومريون اسم أرض الفردوس على حضارة.

- ☐ أ- دلمون ☐ ب- مجان ☐ ج- الجرعاء ☐ د- أم النار

3- الحضارة التي اشتهرت بصناعة النحاس هي:

- ☐ أ- دلمون ☐ ب- مجان ☐ ج- الجرعاء ☐ د- أم النار

السؤال الثاني :- اذكر أبرز المظاهر الحضارية في مجان :

1-.....

2-.....

3-.....

السؤال الثالث :- اذكر أهم المظاهر الحضارية لتاريخ قطر القديم:

1-.....

2-.....

3-.....

السؤال الرابع :- اذكر العوامل التي ساعدت على قيام الحضارات في منطقة الخليج العربي قديماً :

1-.....

2-.....

3-.....

السؤال الأول :- اختر الإجابة الصحيحة بوضع علامة [X] في المربع المقابل لها.

1- من قلاع دولة قطر التي تنتمي للعصر العباسي قلعة:

☐ أ- الزبارة ☐ ب- مروب ☐ ج- الشقبة ☐ د- الوجبة

2- ما توارثه المجتمع عن الأسلاف من مظاهر مادية ومعنوية يسمى :

☐ أ- التراث ☐ ب- الفنون ☐ ج- الآثار ☐ د- العادات

3- تؤثر ثقافة المجتمع على الأفراد في :

☐ أ- الصحة ☐ ب- السلوك ونمط الحياة ☐ ج- الانتاج ☐ د- التعليم

4- مجموعة متنوعة من الأنشطة المميزة للمجتمع تشتمل على العادات والقيم والدين والأخلاق .

☐ أ- الصحة ☐ ب- التعليم ☐ ج- الثقافة ☐ د- الإنتاج

السؤال الثاني :- وضح عناصر الثقافة في المجتمع القطري :

1-.....

2-.....

3-.....

السؤال الثالث :- اذكر دور الأفراد في الحفاظ على ثقافة المجتمع :

1-.....

2-.....

3-.....

نسخة مجانية

العام الأكاديمي 2025/2024

منتصف الفصل الدراسي الأول



أوراق العمل الإثرائية

مادة الدراسات الاجتماعية

الصف السادس الابتدائي

	اسم الطالب
	الصف والشعبة

السؤال الأول :- اختر الإجابة الصحيحة بوضع علامة [X] في المربع المقابل لها.

1- تقع دول الوطن العربي في قارتي آسيا و:

☐ أ- أمريكا الشمالية ☐ ب- أوروبا ☒ ج- إفريقيا ☐ د- أستراليا

2- تبلغ مساحة الوطن العربي:

☐ 11.3 مليون كم2 ☐ 12.3 مليون كم2 ☒ 13.3 مليون كم2 ☐ 14.3 مليون كم2

3 - المسطح المائي الذي يصل مضيق هرمز بالخليج العربي هو.

☒ أ- بحر عمان ☐ ب- بحر العرب ☐ ج- البحر الأحمر ☐ د- البحر المتوسط
السؤال الثاني :- وضح الأهمية الاستراتيجية للموقع الجغرافي للوطن العربي.

1- توسطه قارات العالم القديم جعله مهدًا للحضارات القديمة

2- امتداده الكبير واتساع أراضيه أدى إلى تنوع موارده الاقتصادية

3- أشرفه على بحار ومحيطات هامة ووجود ممرات مائية

السؤال الثالث :- اذكر أسباب اتجاه دول الوطن العربي لتحلية مياه البحر.

1- قلة موارد المياه العذبة

2- زيادة عدد السكان

3- وفرة مصادر الطاقة

السؤال الرابع :- عدد أهم الأنهار في الوطن العربي.

- نهر النيل - نهر دجلة

- نهر الفرات - نهر مجردة

- نهر جوبا - نهر شبيلي - نهر أم الربيع

السؤال الأول :- اختر الإجابة الصحيحة بوضع علامة [X] في المربع المقابل لها.

1- يحد الوطن العربي من جهة الشمال جبال:

☐ أ- زاجروس ☒ ب- طوروس ☐ ج- أطلس ☐ د- كردستان

2- أي من الهضاب التالية تقع في وسط شبه الجزيرة العربية:

☒ أ- نجد ☐ ب- حضرموت ☐ ج- الشطوط ☐ د- بادية الشام

3- تمتد جبال الحجاز وعسير على طول ساحل:

☐ خليج عمان ☐ الخليج العربي ☒ البحر الأحمر ☐ البحر المتوسط
السؤال الثاني:- قارن بين السهول الفيضية والسهول الساحلية في الوطن العربي ؟

وجه المقارنة	السهول الفيضية	السهول الساحلية
المفهوم	وهي أراضٍ واسعة منبسطة كونتها الأنهار	وهي أراضٍ واسعة منبسطة بجوار سواحل البحار والمحيطات
مثال	1- سهول نهر النيل 2- سهول نهر دجلة والفرات 3- سهول نهر جوبا وشبيلي	1- سهول البحر المتوسط 2- سهول تهامة 3- سهول المحيط الأطلنطي 4- سهول الخليج العربي

السؤال الثالث :- (أ) :- أعط أمثلة على الهضاب في الوطن العربي في الجناح الآسيوي.

هضبة نجد - هضبة الصمان

- هضبة حضرموت - هضبة بادية الشام

(ب) :- أعط أمثلة على الهضاب في الوطن العربي في الجناح الأفريقي.

هضبة مرمرিকা - هضبة أدرار

- هضبة تبستي - هضبة الجلف الكبير

- هضبة الشطوط - هضبة الصحراء الأفريقية الكبرى

السؤال الأول :- اختر الإجابة الصحيحة بوضع علامة [X] في المربع المقابل لها.

1- ترتفع درجة الحرارة صيفاً في وسط وشمال الوطن العربي لتعتمد الشمس على :

- ☐ أ- مدار الجدي ☒ ب- مدار السرطان ☐ ج- خط الاستواء ☐ د- خط غرينتش

2- تسقط الأمطار الشتوية على بلاد المغرب العربي بسبب هبوب الرياح:

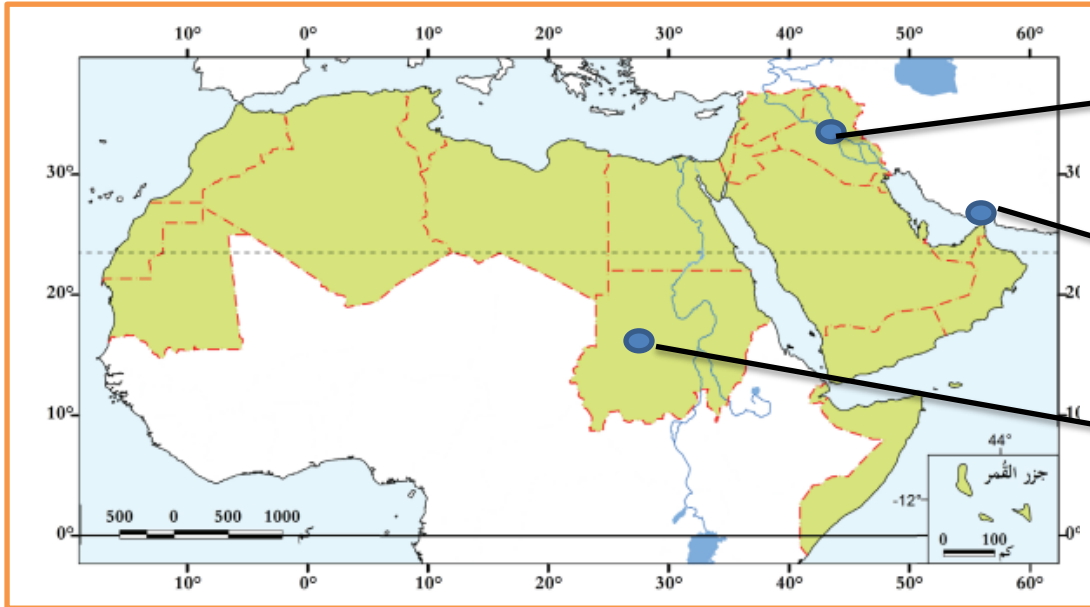
- ☐ أ- الموسمية الممطرة ☐ ب- التجارية الجافة ☒ ج- العكسية الغربية ☐ د- القطبية الشمالية

3- من أهم أنهار الوطن العربي والذي يجري في مصر والسودان نهر :

- ☐ شبيلي ☒ النيل ☐ أم الربيع ☐ جوبا

السؤال الثاني :- أمامك خريطة صماء لدول الوطن العربي اكتب عليها الظواهر الطبيعية المشار إليها

بالأسهم



1- نهر دجلة والفرات

2- مضيق هرمز

3- جمهورية السودان

السؤال الثالث :- عدد موارد المياه في الوطن العربي.

2- مياه الأنهار

1- الأمطار

4- مياه البحر (المياه المحلاة)

3- المياه الجوفية

السؤال الأول :- اختر الإجابة الصحيحة بوضع علامة [X] في المربع المقابل لها.

- 1- أصغر دول الوطن العربي من حيث المساحة :
☒ أ- البحرين ☐ ب- جزر القمر ☐ ج- لبنان ☐ د- جيبوتي
- 2- أكبر دول الوطن العربي من حيث المساحة:
☐ أ- اليمن ☐ ب- مصر ☒ ج- الجزائر ☐ د- موريتانيا

السؤال الثاني :- (أ) :- أعط أمثلة على الجبال في الوطن العربي في الجناح الآسيوي.

- جبال الحجاز - جبال عسير - جبال لبنان

جبال البحر الأحمر - جبال كردستان - جبال زاغروس

- جبال عمان - جبال اليمن - جبال طوروس

(ب) :- أعط أمثلة على الجبال في الوطن العربي في الجناح الأفريقي.

- جبال سيناء - جبال الأحجار - الجبل الأخضر

جبال البحر الأحمر - جبال العوينات - جبال أطلس

السؤال الثالث:- اذكر أبرز المظاهر الحضارية في فيلكا.

1- ازدهار الزراعة

2- قامت بدور مهم في التجارة

3- من أهم مواقعها الأثرية معبد تل سعيد

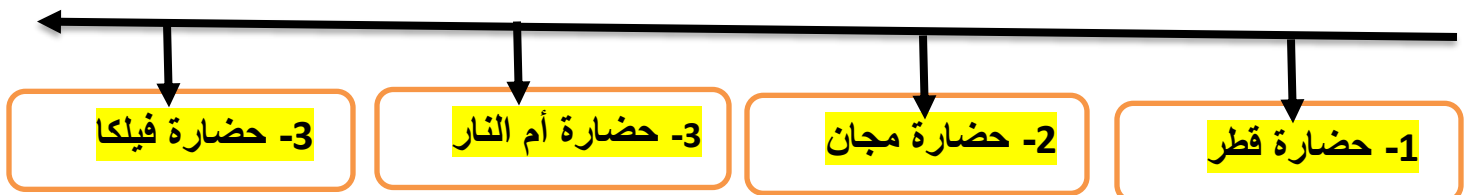
السؤال الرابع:- ما الموارد الطبيعية التي أسهمت في ازدهار حضارات الخليج العربي قديماً.

- اللؤلؤ الطبيعي - النحاس - الأحجار - البخور

- التوابل - المحاصيل الزراعية - الأسماك

السؤال الخامس :- رتب حضارات الخليج العربي حسب ظهورها من الأقدم الى الأحدث..؟

(حضارة أم النار - حضارة فيلكا - حضارة قطر - حضارة مجان)



السؤال الأول :- اختر الإجابة الصحيحة بوضع علامة [X] في المربع المقابل لها.

1- قامت حضارة مجان في المنطقة التي تشغل حاليًا دولة.

☐ أ- السعودية ☐ ب- الكويت ☒ ج- سلطنة عمان ☐ د- الامارات العربية

2- أقدم حضارات منطقة الخليج العربي هي حضارة.

☐ أ- دلمون ☐ ب- مجان ☒ ج- قطر ☐ د- أم النار

3- يقع على الساحل الشرقي لدولة قطر الموقع الأثري المعروف بـ:

☐ أ- مروب ☒ ب- لوسيل ☐ ج- عسيلة ☐ د- رأس بروق

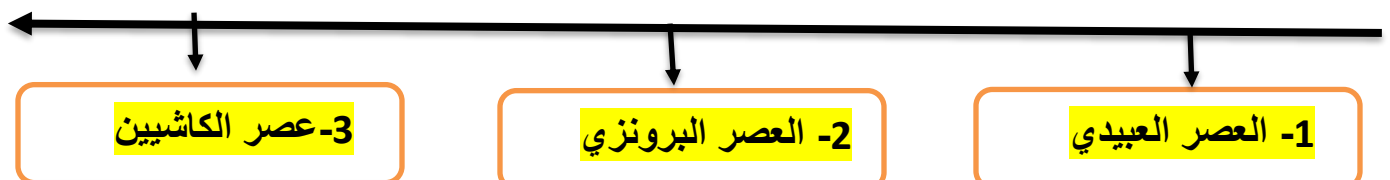
السؤال الثاني :- أكمل الجدول التالي :

المواقع الأثرية الحديثة في دولة قطر	المواقع الأثرية القديمة في دولة قطر
<p>1- قلعة الزبارة</p> <p>2- قلعة الوجبة</p> <p>3- برج برزان - قلعة الدوحة (الكوت)</p>	<p>1- مدافن تلال الخور</p> <p>2- موقع رأس بروق - قلعة مروب</p> <p>3- موقع عسيلة - موقع لوسيل</p>

السؤال الثالث: رتب العصور الحضارية القديمة التي مرت بها قطر من الأقدم الى الأحدث باستخدام الخط

الزمني التالي ؟

(عصر الكاشيين - العصر العبيدي - العصر البرونزي)



السؤال الأول :- اختر الإجابة الصحيحة بوضع علامة [X] في المربع المقابل لها.

1- يقع بالقرب من أم باب الموقع الأثري :

- ☒ أ- عسيلة ☐ ب- رأس بروق ☐ ج- برجاً برزان ☐ د- مدافن تلال الخور

2- أطلق السومريون اسم أرض الفردوس على حضارة.

- ☒ أ- دلمون ☐ ب- مجان ☐ ج- الجرعاء ☐ د- أم النار

3- الحضارة التي اشتهرت بصناعة النحاس هي:

- ☐ أ- دلمون ☒ ب- مجان ☐ ج- الجرعاء ☐ د- أم النار

السؤال الثاني :- اذكر أبرز المظاهر الحضارية في مجان :

1- اشتهر أهل حضارة مجان بالزراعة

2- استخرجوا وصهروا النحاس وصنعوا السفن والأواني

3- تميزت بنشاط تجاري واسع فصدروا النحاس والبخور والأخشاب

السؤال الثالث :- اذكر أهم المظاهر الحضارية لتاريخ قطر القديم:

1- برع أهل قطر قديماً في حرفتي الغوص على اللؤلؤ وصيد الأسماك

2- صنع أهل قطر الأواني الفخارية والأسلحة البدائية

3- اشتغل أهل قطر بالتجارة مع المناطق المجاورة

السؤال الرابع :- اذكر العوامل التي ساعدت على قيام الحضارات في منطقة الخليج العربي قديماً :

1- أهمية الموقع الجغرافي

2- وفرة المياه العذبة

3- وفرة الموارد الطبيعية

السؤال الأول :- اختر الإجابة الصحيحة بوضع علامة [X] في المربع المقابل لها.

1- من قلاع دولة قطر التي تنتمي للعصر العباسي قلعة:

☐ أ- الزبارة ☒ ب- مروب ☐ ج- الشقبة ☐ د- الوجبة

2- ما توارثه المجتمع عن الأسلاف من مظاهر مادية ومعنوية يسمى :

☒ أ- التراث ☐ ب- الفنون ☐ ج- الآثار ☐ د- العادات

3- تؤثر ثقافة المجتمع على الأفراد في :

☐ أ- الصحة ☒ ب- السلوك ونمط الحياة ☐ ج- الانتاج ☐ د- التعليم

4- مجموعة متنوعة من الأنشطة المميزة للمجتمع تشتمل على العادات والقيم والدين والأخلاق .

☐ أ- الصحة ☐ ب- التعليم ☒ ج- الثقافة ☐ د- الإنتاج

السؤال الثاني :- وضح عناصر ثقافة المجتمع القطري :

1- اللغة العربية

2- الدين الإسلامي

3- القيم والعادات والتقاليد - التراث والفنون

السؤال الثالث :- اذكر دور الأفراد في الحفاظ على ثقافة المجتمع :

1- التمسك بالقيم المستمدة من الدين الإسلامي

2- الالتزام بالعادات الحسنة

3- احترام الآخرين 4- التمسك بعادات وتقاليد المجتمع