

تم تحميل ورفع المادة على منصة

الأمجاد القطري



للعودة الى الموقع اكتب في بحث جوجل



الأمجاد القطري



QATAR.AL-AMGAAD.COM

# أوراق عمل على الوحدة الأولى (هذه التدريبات لاتغني عن الكتاب المدرسي)

## الوحدة الأولى:

الأسئلة الموضوعية:

١- من الحركات الباطنية البطيئة :			
١ الزلازل	٢ البراكين	٣ الانكسارات	٤ التجوية
٢- من الجبال الالتوائية الكبرى في أمريكا الشمالية :			
١ الانديز	٢ روكي	٣ الهيمالايا	٤ أطلس
٣- كسر أو شق يحدث للصخور الصلبة في القشرة الأرضية نتيجة حركات شد لأعلى أو أسفل :			
الانكسارات		البراكين	الالتواء المحذب
الالتواء المقعر			
١	٢	٣	٤
٤- تعمل الحركات الباطنية البطيئة على :			
١ تسوية سطح الأرض	٢ تكوين التربة الخصبة	٣ تشكيل السهول	٤ تشكيل التضاريس الكبرى
٥- من الجبال الالتوائية في قارة اسيا :			
١ كلمنجارو	٢ الهيمالايا	٣ روكي	٤ الألب
٦- البراكين التي توقف نشاطها تسمى :			
١ ميتة	٢ نشطة	٣ خامدة	٤ متقطعة
٧- من أمثلة الجبال البركانية :			
١ أطلس	٢ كلمنجارو	٣ زاجروس	٤ عمان
٨- من الهضاب الالتوائية في الوطن العربي :			
المكسيك	التبت	الشطوط	اليمن
٩- البراكين التي لا يعرف متى ستثور مرة ثانية تسمى :			
١ ميتة	٢ خامدة	٣ نشطة	٤ متقطعة
١٠- من أمثلة الحركات الباطنية السريعة :			
١ الزلازل	٢ الالتواءات	٣ التجوية	٤ الانكسارات
١١- خروج المواد المنصهرة والغازات والأبخرة من باطن الأرض من مناطق الضعف بالقشرة الأرضية :			
الإلتواء		الإنكسار	الزلازل
البراكين			
١٣- من جبال الوطن العربي الانكسارية من الوطن العربي:			
١- عسير	٢- أطلس	٣- زاجروس	٤- طوروس

## أوراق عمل على الوحدة الأولى (هذه التدريبات لاتغني عن الكتاب المدرسي)

### الأسئلة المقالية:

أجب عما يلي :

١- بـم تفسر :

أ- تسمية الحركات الباطنية البطينة بهذا الاسم : .....

ب- تكون الأغوار المنخفضة : .....

٢- اذكر أنواع الالتواءات :

..... ، .....

٣- قارن بين الالتواءات والانكسارات

وجه المقارنة	الانكسارات	الالتواءات
نوع الصخور		
الأشكال التضاريسية الناتجة		

٤- عرف كل مما يلي:

أ- الانكسارات :

.....  
ب- الالتواءات:

.....

ج- الزلازل:

.....

د- البراكين:

.....

٥- اذكر اثنين لكل مما يلي:

أ- أنواع الإنكسار:

.....

ب- اذكر أنواع البراكين حسب الثوران:

أ- .....

ب- .....

## أوراق عمل على الوحدة الأولى (هذه التدريبات لا تغني عن الكتاب المدرسي)

٦- ما الآثار المترتبة على الزلازل؟

- أ- .....
- ب- .....
- ج- .....
- د- .....

٧- بم تفسر : تعمل البراكين على تشكيل سطح الأرض :

- أ- .....
- ب- .....
- ج- .....
- د- .....

٨- وضح طرق التعامل في حال حدوث بركان وزلزال

وجه المقارنة	في حال الزلزال	في حال البركان
طرق التعامل		

٩- وضح مناطق انتشار الزلازل في العالم

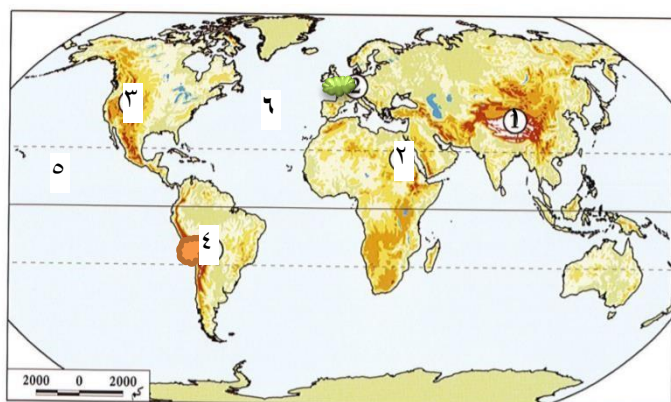
- أ- .....
- ب- .....

## أوراق عمل على الوحدة الأولى (هذه التدريبات لاتغني عن الكتاب المدرسي)

١٠- اكمل الجدول التالي:

الجبال الالتوائية	القارة
..... جبال	قارة آسيا
..... جبال	قارة إفريقيا
..... جبال	قارة أوروبا
..... جبال روكي	قارة .....
..... جبال	قارة أمريكا الجنوبية
..... جبال الألب الأسترالية	قارة .....

٨- أمامك خريطة توضح توزيع الجبال في العالم ، اكتب ما تشير إليه الأرقام التي على الخريطة.



- ..... ١- جبال
- ..... ٢- جبال
- ..... ٣- جبال
- ..... ٤- جبال
- ..... ٥- المحيط:
- ..... ٦- المحيط:

أوراق عمل على الوحدة الثانية (هذه التدريبات لا تغني عن الكتاب المدرسي)

## الوحدة الثانية:

١- المدينة التي تميزت بنظامها العسكري الصارم هي :			
١ طروادة	٢ أسبرطة	٣ أثينا	٤ مقدونيا
٢- جاء الاسكندر الأكبر من مدينة :			
١ أثينا	٢ طروادة	٣ مقدونيا	٤ أسبرطة
٣- يرجع انقسام الإمبراطورية اليونانية إلى :			
١ قيام دولة المدينة	٢ وفاة الاسكندر المقدوني	٣ احتلال الرومان لليونان	٤ تولي فيليب الحكم
٤- ظهرت الحضارة اليونانية قبل الميلاد في الألف :			
١ الثالثة	٢ الرابعة	٣ الخامسة	٤ السادسة
٥- من الجزر التابعة لبلاد اليونان :			
١ مدغشقر	٢ كريت	٣ سيلان	٤ مالطة
٦- عُرفت بلاد اليونان باسم :			
الفايكنج	اللاتين	الاغريق	الانكشارية
٧- من أشهر أعلام اليونان في مجال الفلسفة :			
١ أبقرط	٢ سقراط	٣ هيرودوتس	٤ بطليموس
٨- لقب بأبي التاريخ :			
١ فيثاغورث	٢ هوميروس	٣ هيرودوتس	٤ أرسطو طاليس
٩- وضع قسما لممارسة مهنة الطب ولقب بأبي الطب البشري :			
١ أبقرط	٢ فيثاغورث	٣ طاليس	٤ أفلاطون
١٠- اشتقت الحروف اليونانية من الحروف :			
١ اللاتينية	٢ الفينيقية	٣ الصينية	٤ الهندية
١٢- من أشهر معابد اليونان :			
الكرنك	عشتار	البارثينون	البسفور

أوراق عمل على الوحدة الثانية (هذه التدريبات لا تغني عن الكتاب المدرسي)

### الأسئلة المقالية:

### أجب عما يلي :

١- ما أوجه الاختلاف بين حضارة أسبرطة وحضارة أثينا .

.....

.....

٢- عدد عوامل قيام الحضارة اليونانية

- أ-.....
- ب-.....
- ج-.....
- د-.....

٣- اذكر أهم أعمال الاسكندر المقدوني

- ١-.....
- ٢-.....

### ٤- ما النتائج المترتبة على :

أ- وفاة الاسكندر المقدوني :

.....

.....

ب- وجود التضاريس الوعرة في بلاد اليونان :

.....

.....

.....

٥- بم تفسر :

أ- تميز اليونانيين في مجال النحت

.....

ب- تسمية الألعاب الأولمبية بهذا الاسم :

.....

أوراق عمل على الوحدة الثانية (هذه التدريبات لا تقني عن الكتاب المدرسي)

**٦- اكتب عملاً واحداً لكل من :**

أ- هيرودوتس : .....

ب- بطليموس الجغرافي : .....

٧- عدد أهم طبقات المجتمع في بلاد اليونان

١- ..... ٢- ..... ٣- .....

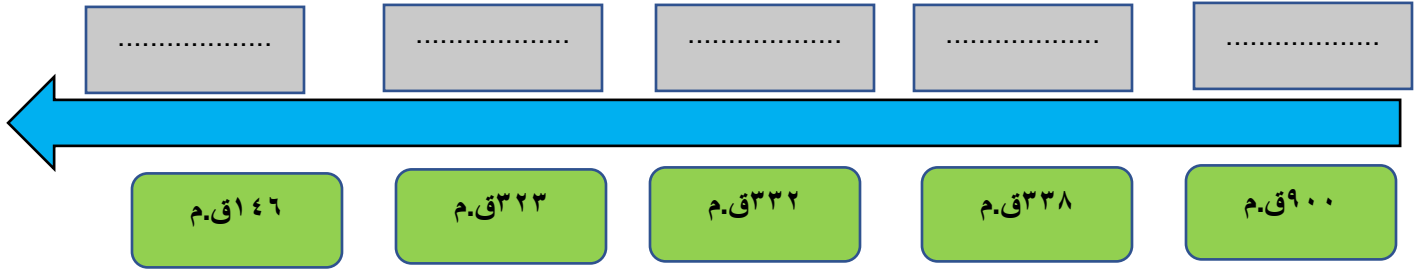
٨- "مر نظام الحكم في بلاد اليونان بعدة مراحل " برهن على صحة هذه العبارة

.....

٩- رتب الأحداث التاريخية التالية من الأقدم إلى الأحدث:

(( انقسام الإمبراطورية اليونانية- سقوط بلاد اليونان - إقامة الإمبراطورية اليونانية - تأسيس دولة المدينة -

سيطرة مقدونيا على اليونان))





أوراق العمل على الوحدة الثالثة (هذه التدريبات لا تغني عن الكتاب المدرسي)

اختر الاجابة الصحيحة بوضع علامة (X) داخل المربع

٣- في أي عام من الاعوام الآتية تم الاستفتاء على الدستور في دولة قطر .

٢٠٠١		٢٠٠٢		٢٠٠٣		٢٠٠٤	
------	--	------	--	------	--	------	--

٤- ساعد على حرية الرأي والتعبير في دولة قطر .

إنشاء مجلس الوزراء		إنشاء الديوان الأميري		إنشاء وزارة الرياضة		إلغاء الرقابة على وسائل الإعلام	
--------------------	--	-----------------------	--	---------------------	--	---------------------------------	--

٥- يبلغ عدد أعضاء مجلس الشورى القطري .

٢٥		٣٥		٤٥		٥٥	
----	--	----	--	----	--	----	--

٦- عدد أعضاء المجلس البلدي المركزي .

١٩		٢٩		٣٩		٤٩	
----	--	----	--	----	--	----	--

٧- يرجع تاريخ مجلس الشورى القطري إلى عام .

١٩٧٢م		١٩٧٣م		١٩٧٤م		١٩٧٥م	
-------	--	-------	--	-------	--	-------	--

٨- يعد الاستفتاء على الدستور القطري صورة من صور الديمقراطية.

المباشرة		غير المباشرة		شبه المباشرة		النيابية	
----------	--	--------------	--	--------------	--	----------	--

أوراق العمل على الوحدة الثالثة (هذه التدريبات لا تغني عن الكتاب المدرسي)

**أجب عما يلي :**

١- بم تفسر ما يلي:

أ- أهمية الدستور الدائم لدولة قطر:

.....

.....

٢- ما النتائج المترتبة على الغاء القابضة على وسائل الاعلام:

..... ، .....

٣- اذكر مظاهر الديمقراطية في دولة قطر.

١- ..... ٢- ..... ٣- ..... ٤- ..... ٥- .....

٤- عدد اختصاصات مجلس الشورى:

١- ..... ٢- ..... ٣- .....

أ- قارن بين الديمقراطية المباشرة وغير المباشرة :

العنصر	الديمقراطية المباشرة	الديمقراطية غير المباشرة
وجه الاختلاف		

# أوراق عمل على الوحدة الأولى (هذه التدريبات لاتغني عن الكتاب المدرسي)

الأسئلة الموضوعية:

١- من الحركات الباطنية البطينة :			
١ الزلازل	٢ البراكين	٣ الانكسارات	٤ التجوية
٢- من الجبال الالتوائية الكبرى في أمريكا الشمالية :			
١ الانديز	٢ روكي	٣ الهيمالايا	٤ أطلس
٣- كسر أو شق يحدث للصخور الصلبة في القشرة الأرضية نتيجة حركات شد لأعلى أو أسفل :			
١ الانكسارات	٢ البراكين	٣ الالتواء المحدب	٤ الالتواء المقعر
٤- تعمل الحركات الباطنية البطينة على :			
١ تسوية سطح الأرض	٢ تكوين التربة الخصبة	٣ تشكيل السهول	٤ تشكيل التضاريس الكبرى
٥- من الجبال الالتوائية في قارة اسيا :			
١ كلمنجارو	٢ الهيمالايا	٣ روكي	٤ الألب
٦- البراكين التي توقف نشاطها تسمى :			
١ ميتة	٢ نشطة	٣ خامدة	٤ متقطعة
٧- من أمثلة الجبال البركانية :			
١ أطلس	٢ كلمنجارو	٣ زاجروس	٤ عمان
٨- من الهضاب الالتوائية في الوطن العربي :			
الانديز	التبت	الشطوط	اليمن
٩- البراكين التي لا يعرف متى ستثور مرة ثانية تسمى :			
١ ميتة	٢ خامدة	٣ نشطة	٤ متقطعة
١٠- من أمثلة الحركات الباطنية السريعة :			
١ الزلازل	٢ الالتواءات	٣ التجوية	٤ الانكسارات
١١- خروج المواد المنصهرة والغازات والأبخرة من باطن الأرض من مناطق الضعف بالقشرة الأرضية :			
الإلتواء	الإنكسار	الزلازل	البراكين
١٣- من جبال الوطن العربي الانكسارية:			
١- عسير	٢- أطلس	٣- زاجروس	٤- طوروس

## أوراق عمل على الوحدة الأولى (هذه التدريبات لا تغني عن الكتاب المدرسي)

### الأسئلة المقالية:

أجب عما يلي :

١- **بم تفسر:**

أ- تسمية الحركات الباطنية البطيئة بهذا الاسم : .....

..... ١- تحدث ببطء ٢- خلال فترة زمنية طويلة .....

ب- تكون الأغوار المنخفضة :

نتيجة الانكسارات

٢- اذكر أنواع الالتواءات :

..... ١- المحذب ٢- المقعر .....

٣- قارن بين الالتواءات والانكسارات

وجه المقارنة	الانكسارات	الالتواءات
نوع الصخور	الصلبة (النارية)	اللينة (الرسوبية)
الأشكال التضاريسية الناتجة	١- الجبال الانكسارية ٢- الأغوار	١- الجبال الالتوائية ٢- الهضاب

٤- عرف كل مما يلي:

أ- الانكسارات : كسر في الصخور الصلبة في القشرة الأرضية بسبب عوامل شد وضغط رأسية

ب- الالتواءات:

..... ثني أو طي للصخور اللينة الرسوبية الموجودة بالقشرة الأرضية وتقوسها الى أعلى او اسفل

ج- الزلازل:

..... هزات أرضية سريعة تصيب أجزاء من القشرة الأرضية وتنتشر على شكل موجات زلزالية

د- البراكين:

..... فتحة في القشرة الأرضية تندفع منها الغازات والحمم البركانية

٥- اذكر اثنين لكل مما يلي:

أ- أنواع الإنكسار:

..... ١- العادي ٢- السلمي ٣- المعكوس

ب- اذكر أنواع البراكين حسب الثوران:

..... ١- الميتة ٢- المتقطعة ٣- النشطة ٤- الخامدة

## أوراق عمل على الوحدة الأولى (هذه التدريبات لا تغني عن الكتاب المدرسي)

٦- ما الآثار المترتبة على الزلازل؟

- ١- شقوق في القشرة الأرضية. ٢- أمواج تسونامي.
- ٣- اختفاء أجزاء من الجزر وزيادة مساحة جزر أخرى.
- ٤- حدوث انهيارات جليدية.
- ٥- ارتفاع مناطق وانخفاض مناطق أخرى.

٧- بم تفسر : تعمل البراكين على تشكيل سطح الأرض :

- ١- تكوين جبال بركانية مثل جبل فيجي في اليابان.
- ٢- تكوين الهضاب البركانية مثل هضبة الحبشة.
- ٣- تكوين الجزر البركانية مثل جزر هاواي.
- ٤- البحيرات في فوهة البراكين مثل بحيرة تال في الفلبين.

٨- وضح طرق التعامل في حال حدوث بركان وزلزال

وجه المقارنة	في حال الزلزال	في حال البركان
طرق التعامل	<ol style="list-style-type: none"> <li>١- ابتعد عن النافذة</li> <li>٢- لا تستخدم السلالم أو المصعد</li> <li>٣- اقطع الكهرباء والغاز الطبيعي</li> <li>٤- اختبئ أسفل الأثاث</li> <li>٥- ابتعد عن المباني والتوجه لمكان واسع</li> <li>٦- ابقَ في داخل السيارة</li> <li>٧- ابتعد عن الشواطئ</li> </ol>	<ol style="list-style-type: none"> <li>١- إذا كنت في المبنى مغادرته مباشرة</li> <li>٢- عندما تخرج من المبنى النظر الى السماء وملاحظة من أين تأتي سحابة الدخان</li> <li>٣- اركب السيارة والاتجاه بعكس سحابة الدخان</li> <li>٤- احم جهازك التنفسي من الغبار الدخاني</li> <li>٥- استمع الى ارشادات الدفاع المدني</li> </ol>

٩- وضح مناطق انتشار الزلازل في العالم

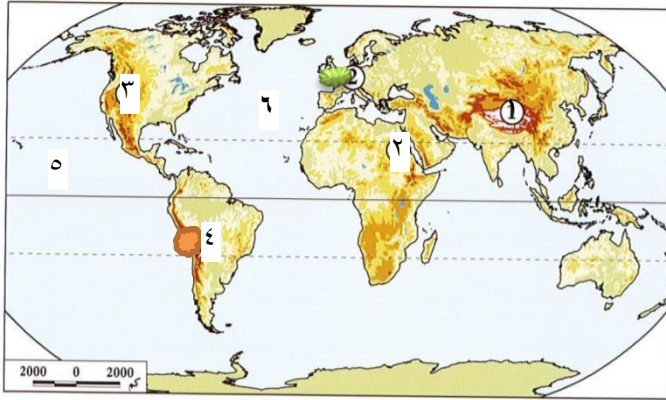
- ١- الحلقة النارية
- ٢- نطاق البحر المتوسط الآسيوي

## أوراق عمل على الوحدة الأولى (هذه التدريبات لاتغني عن الكتاب المدرسي)

١٠- اكمل الجدول التالي:

القبارة	القبال الالانوانة
قارة آسفا	قبال .. الهفمالافا
قارة إفرفقا	قبال .. أطلس
قارة أوروبا	قبال .. الألب
قارة .. أمرفكا الشمالفة	قبال روكف
قارة أمرفكا الفنونفة	قبال .. الأنففر
قارة .. اسفرلفا	قبال الألب الأسفرلفة

٨- أمامك خرفطة فوضف فزفع القبال فف العالف ، اكفب ما فشففر إلفه الأرقام الفف على الخرفطة.



- ١-قبال ..... الهفمالافا
- ٢-قبال ..... البفر الأحمر
- ٣- قبال ..... روكف
- ٤- -قبال ..... الأنففر
- ٥-المحفط: ..... الهافف
- ٦-المحفط: ..... الأطلسف

# أوراق عمل على الوحدة الثانية (هذه التدريبات لا تغني عن الكتاب المدرسي)

## الوحدة الثانية:

١- المدينة التي تميزت بنظامها العسكري الصارم هي :			
١ طروادة	٢ أسيرطة	٣ أثينا	٤ مقدونيا
٢- جاء الاسكندر الأكبر من مدينة :			
١ أثينا	٢ طروادة	٣ مقدونيا	٤ أسيرطة
٣- يرجع انقسام الإمبراطورية اليونانية إلى :			
١ قيام دولة المدينة	٢ وفاة الاسكندر المقدوني	٣ احتلال الرومان لليونان	٤ تولي فيليب الحكم
٤- ظهرت الحضارة اليونانية قبل الميلاد في الألف :			
١ الثالثة	٢ الرابعة	٣ الخامسة	٤ السادسة
٥- عُرفت بلاد اليونان باسم :			
١ الفايكنج	٢ اللاتين	٣ الاغريق	٤ الأنكشارية
٦- من الجزر التابعة لبلاد اليونان :			
١ مدغشقر	٢ كريت	٣ سيلان	٤ مالطة
٧- الفئنة التي يحق لها ممارسة الحقوق السياسية في الحضارة اليونانية:			
١ المواطنون	٢ العبيد	٣ القضاة	٤ الأجانب
٨- من أشهر اعلام اليونان في مجال الفلسفة :			
١ أبقرات	٢ سقراط	٣ هيرودوتس	٤ بطليموس
٩- لقب أبابي التاريخ :			
١ فيثاغورث	٢ هوميروس	٣ هيرودوتس	٤ أرسطو طاليس
١٠- وضع قسما لممارسة مهنة الطب ولقب أبابي الطب البشري :			
١ أبقرات	٢ فيثاغورث	٣ طاليس	٤ أفلاطون
١١- استنت الحروف اليونانية من الحروف			
١ اللاتينية	٢ الفينيقية	٣ الصينية	٤ الهندية
١٢- من أشهر معابد اليونان :			
الكرك	عشتار	البارثينون	البسفور

## أوراق عمل على الوحدة الثانية (هذه التدريبات لا تغني عن الكتاب المدرسي)

### الأسئلة المقالية:

### أجب عما يلي :

١- ما أوجه الاختلاف بين حضارة أسبرطة وحضارة أثينا .

أسبرطة: ١- عرفت بنظامها العسكري الصارم ٢- لم تسهم بشكل كبير في الحضارة الاغريقية  
أثينا: ١- عرفت بنظامها الديمقراطي ٢- كانت رائدة في كافة المجالات الحضارية بسبب حرية التفكير

٢- عدد عوامل قيام الحضارة اليونانية

١- الموقع الجغرافي ٢- التضاريس ٣- المناخ المعتدل ٤- حرية التفكير

٣- اذكر أهم أعمال الاسكندر المقدوني

١- فرض السيطرة على بلاد اليونان ٢- السيطرة على مناطق واسعة في الشرق ٢- تكوين امبراطورية

### ٤- ما النتائج المترتبة على :

أ- وفاة الاسكندر المقدوني :

انقسام الإمبراطورية اليونانية بين قادته

ب- وجود التضاريس الوعرة في بلاد اليونان :

١- ظهور نظام (دولة المدينة). ٢- اعتماد كل مدينة على ذاتها اقتصادياً.

٣- التنافس بين المدن الإغريقية. ٤- توجه السكان الى السواحل حيث الموانئ الطبيعية مما أسهم في ازدهار التجارة.

أ- تميز اليونانيين في مجال النحت

١- بسبب اهتمامهم بالحركة. ٢- والاهتمام بتفاصيل الأشياء

ب- تسمية الألعاب الاولمبية بهذا الاسم :

بسبب مدينة اولمبيا التي اقام بها اليونان المباريات الرياضية

### ٦- اكتب عملاً واحداً لكل من :

أ- هيرودوتس : .... اول من كتب التاريخ ولقب بأبي التاريخ .....

ب- بطليموس الجغرافي : من أفكاره ان الأرض كروية ثابتة ويوصف بأنه أبو الجغرافيا



## أوراق عمل على الوحدة الثانية (هذه التدريبات لا تغني عن الكتاب المدرسي)

٧- عدد أهم طبقات المجتمع في بلاد اليونان

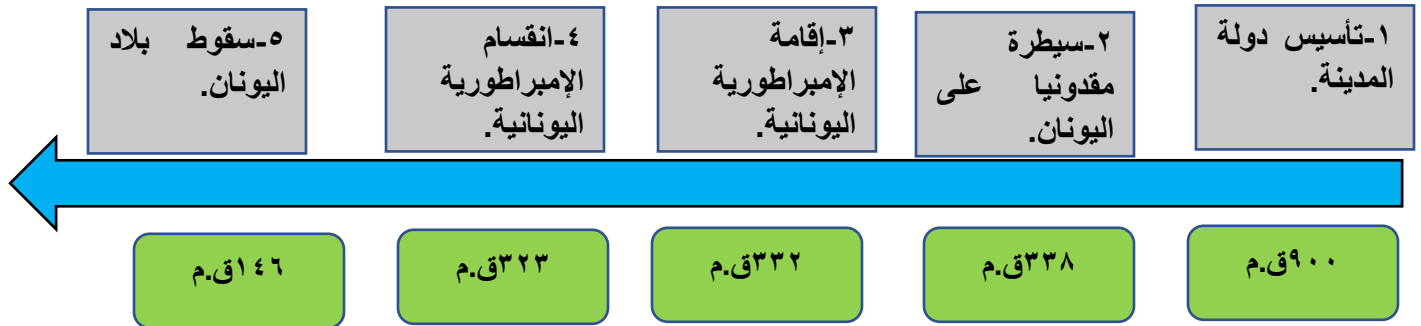
١- المواطنون ٢- الأجانب ٣- العبيد

٨- "مر نظام الحكم في بلاد اليونان بعدة مراحل برهن على صحة هذه العبارة

١- ملكي وراثي ٢- الديمقراطي ٣- الامبراطوري ٤- الملكي

٩- رتب الأحداث التاريخية التالية من الأقدم إلى الأحدث (( انقسام الإمبراطورية اليونانية- سقوط بلاد اليونان -

إقامة الإمبراطورية اليونانية - تأسيس دولة المدينة - سيطرة مقدونيا على اليونان))



أوراق عمل على الوحدة الثالثة (هذه التدريبات لا تغني عن الكتاب المدرسي)

اختر الاجابة الصحيحة بوضع علامة (X) داخل المربع

٣- في أي عام من الاعوام الآتية تم الاستفتاء على الدستور في دولة قطر .

٢٠٠١		٢٠٠٢	X	٢٠٠٣		٢٠٠٤	
------	--	------	---	------	--	------	--

٤- ساعد على حرية الرأي والتعبير في دولة قطر .

إنشاء مجلس الوزراء		إنشاء الديوان الأميري		إنشاء وزارة الرياضة		X	إلغاء الرقابة على وسائل الإعلام
--------------------	--	-----------------------	--	---------------------	--	---	---------------------------------

٥- يبلغ عدد أعضاء مجلس الشورى القطري .

٢٥		٣٥	X	٤٥		٥٥	
----	--	----	---	----	--	----	--

٦- عدد أعضاء المجلس البلدي .

١٩		٢٩	X	٣٩		٤٩	
----	--	----	---	----	--	----	--

٧- يرجع تاريخ مجلس الشورى القطري إلى عام .

X	١٩٧٢م	١٩٧٣م		١٩٧٤م		١٩٧٥م	
---	-------	-------	--	-------	--	-------	--

٨- يعد الاستفتاء على الدستور القطري صورة من صور الديمقراطية .

X	المباشرة	غير المباشرة		شبه المباشرة		النيابية	
---	----------	--------------	--	--------------	--	----------	--

أوراق عمل على الوحدة الثالثة (هذه التدريبات لا تغني عن الكتاب المدرسي)

### أجب عما يلي :

١- بم تفسر ما يلي:

أ- أهمية الدستور الدائم لدولة قطر:

- ١- تحقيقاً لأهداف دولة قطر في استكمال أسباب الحكم الديمقراطي ٢- يرسى دعائم الأساسية للمجتمع.
- ٣- تجسيد المشاركة الشعبية في اتخاذ القرار ٤- يضمن الحقوق والواجبات لأبناء الوطن.

٢- ما النتائج المترتبة على الغاء القابة على وسائل الاعلام:

- ١- أدّى ذلك إلى حرية الصحافة والطباعة ٢- تربية النشء اجتماعياً وسياسياً ٣- وزيادة الوعي بقضايا المجتمع

٣- اذكر مظاهر الديمقراطية في دولة قطر

- ١- الاستفتاء على الدستور ٢- اصدار الدستور الدائم ٣- الغاء الرقابة على وسائل الاعلام
- ٤- مجلس الشورى ٥- انتخابات المجلس البلدي

٤- عدد اختصاصات مجلس الشورى:

- ١- يتولى مجلس الشورى سلطة التشريع ٢- إقرار الموازنة العامة
- ٣- يمارس الرقابة على السلطة التنفيذية

أ- قارن بين الديمقراطية المباشرة وغير المباشرة :

العنصر	الديمقراطية المباشرة	الديمقراطية غير المباشرة
وجه الاختلاف	يكون فيها الشعب مصدر السلطات وله حق ممارستها	نظام يقوم فيه الشعب على انتخاب نواب يتوبون عنه في اتخاذ القرارات